




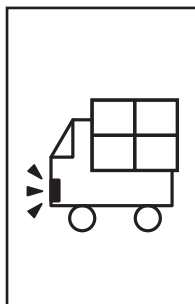



<問題11> 左端の絵を鏡にうつすと、どうなりますか？右から選んで、○をつけましょう。



<問題21> 左端の絵を鏡にうつすと、どうなりますか？右から選んで、○をつけましょう。

