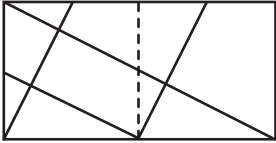
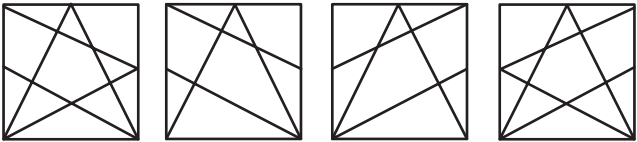
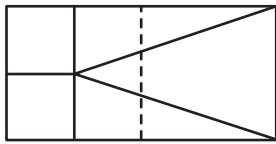
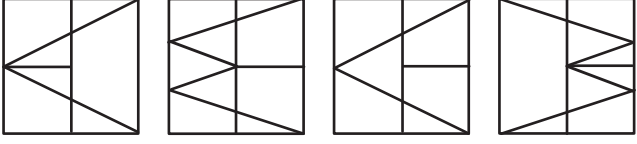
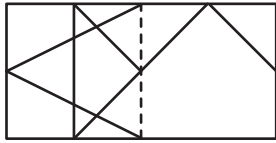
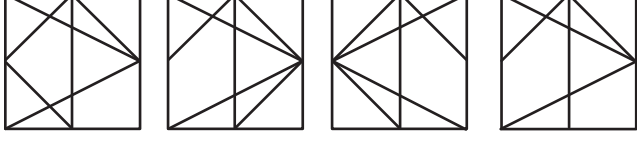
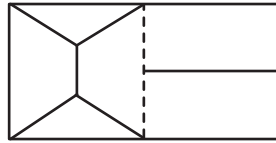
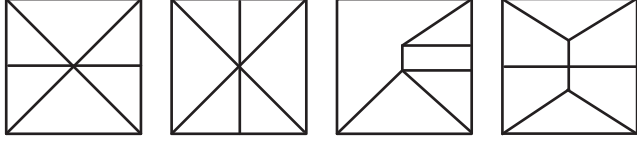
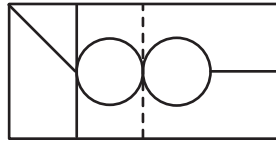



とうめいなビニールのうえにかかれた形を、点線のところで左から右におりまげると、右のどの形になりますか。1つみつけて、○をつけなさい。

<p style="text-align: center;">→</p> 	
<p style="text-align: center;">→</p> 	
<p style="text-align: center;">→</p> 	
<p style="text-align: center;">→</p> 	
<p style="text-align: center;">→</p> 	

とうめいなビニールのうえにかかれた形を、点線のところで左から右におりまげると、右のどの形になりますか。1つみつけて、○をつけなさい。
